

1.A. LA COMARCA. ON SOM?



SOM UNA COMARCA DE MUNTANYA

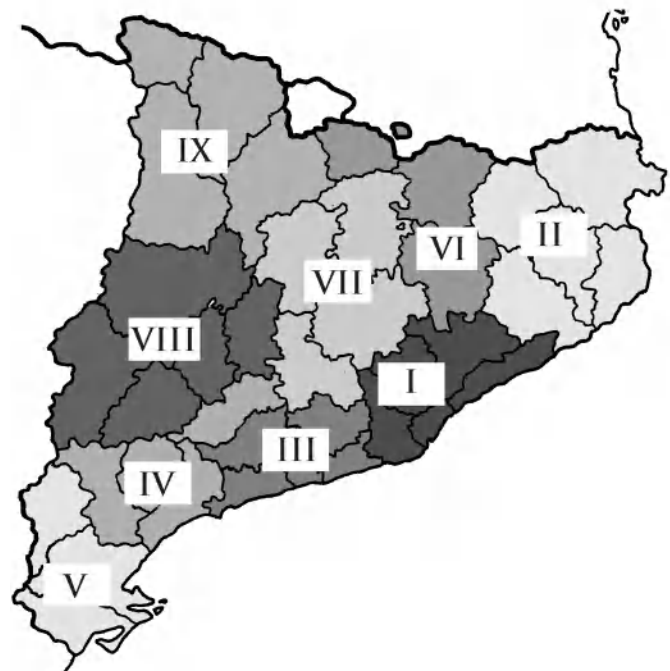
Fa més de setanta anys, la Generalitat de Catalunya va decidir que els municipis veïns d'un territori, amb un paisatge i unes activitats econòmiques semblants, formarien una **comarca**.

De comarques, n'hi ha de molt grans (vegeu el mapa del costat i el de la pàgina següent), com la Noguera (1), l'Alt Urgell (2), el Segrià (3), el Pallars Sobirà (4) o l'Alt Empordà (5). En canvi, n'hi ha que són molt petites com el Pla de l'Estany (6), el Barcelonès (7) o el Garraf (8). La Cerdanya és de les mitjanes. És la que fa trenta, si tenim en compte l'extensió del territori.

La **Cerdanya** és una de les que estan situades més al nord de Catalunya, on hi ha el Pirineu. Per això, la nostra comarca i les que s'hi assemblen també s'anomenen **comarques pirinenques o de muntanya**.

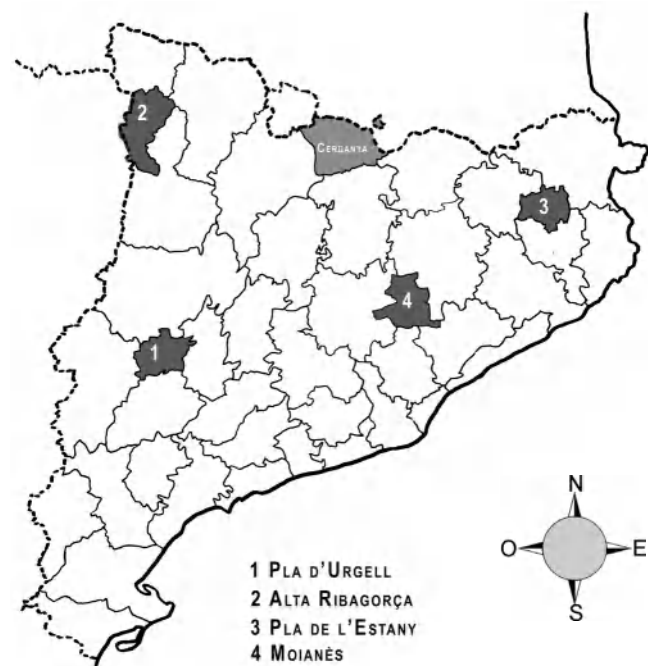
Ho són també la Val d'Aran, l'Alta Ribagorça, el Pallars Jussà, el Pallars Sobirà, l'Alt Urgell, el Solsonès, el Berguedà, el Ripollès i la Garrotxa.

LES PRIMERES COMARQUES



En la primera divisió en comarques que es va fer, l'any 1936, n'hi havia trenta-vuit. Aquestes es van agrupar en nou regions. La Cerdanya, el Ripollès i Osona formaven la sisena regió.

LES COMARQUES ACTUALS



L'any 1987 la Generalitat de Catalunya va decidir d'afegir tres comarques noves. L'any 2015 es va crear el Moianès. Ara n'hi ha quaranta-dues.

1.A. LA COMARCA. ON SOM?



CLASSIFICACIÓ DE LES COMARQUES PRINCIPALS SEGONS LA POBLACIÓ (2020)

1 Barcelonès	2.294.614 hab.
2 Vallès Occidental	936.172 hab.
3 Baix Llobregat	828.522 hab.
33 Garrigues	18.980 hab.
34 Cerdanya	18.396 hab.
35 Moianès	13.801 hab.
42 Alta Ribagorça	3.856 hab.



Actualment només és vigent la divisió en quaranta-dues comarques, però també s'acostuma a agrupar-les en set grans grups: comarques de l'Alt Pirineu i Aran (P), de Terres de Ponent (PO), de Terres de l'Ebre (E), Centrals (C) comarques de Tarragona (T), comarques de Girona (G) i comarques de Barcelona (B).

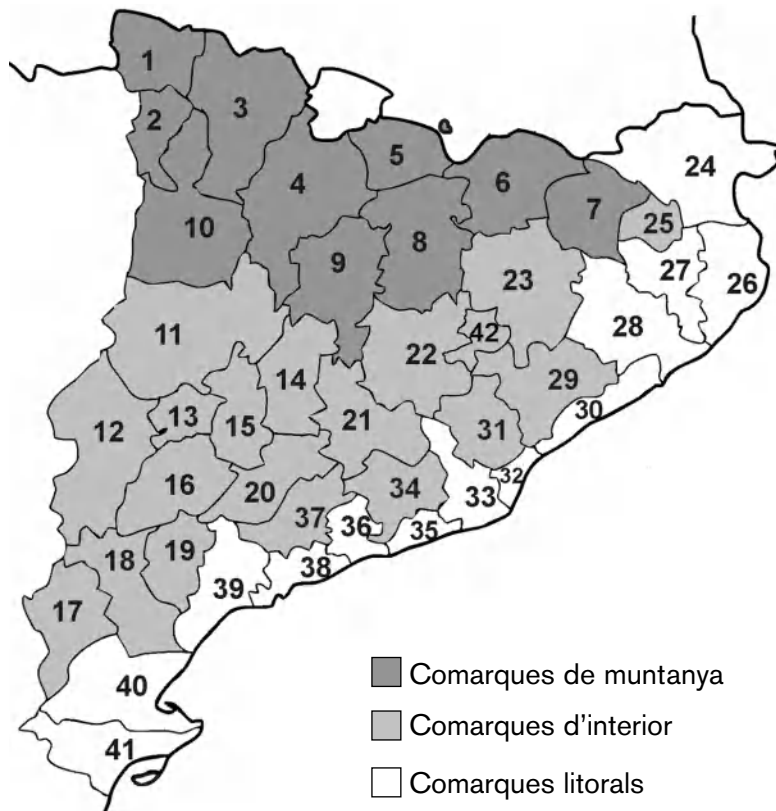


1.A. LA COMARCA. ON SOM?

activitat 1.A.1

Les comarques es poden agrupar segons el paisatge i el clima. Per això hi ha comarques de muntanya, d'interior i litorals.

1 En el mapa s'hi han diferenciat els tres tipus de comarques. Emplena el quadre amb el nom de cinc comarques de cada zona.



COMARQUES DE MUNTANYA	COMARQUES D'INTERIOR	COMARQUES LITORALS

1.A. LA COMARCA. ON SOM?

activitat 1.A.1

2

Anota al costat de cada dibuix si correspon a una comarca d'interior, de muntanya o litoral. A més, senyala tres característiques que siguin pròpies de cada zona.



Comarca...

- Terreny molt accidentat amb muntanyes altes.
- Molts pobles són petits, aturonats i enmig de les muntanyes.
- Els hiverns són freds i amb neu, i els estius són frescos.
- Hi ha grans ciutats amb aeroports.



Comarca...

- Poblacions ben comunicades per terra, mar i aire.
- Estius i hiverns suaus.
- Tenen platges banyades per la mar Mediterrània.
- Hi ha pistes d'esquí.



Comarca...

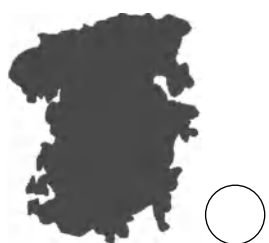
- Els habitants treballen en l'agricultura, la ramaderia i la indústria.
- El relleu és variat amb planes, altiplans i muntanyes baixes.
- A l'hivern hi fa fred i a l'estiu calor.
- Molts pobles tenen port per a vaixells.

1.A. LA COMARCA. ON SOM?

activitat 1.A.2

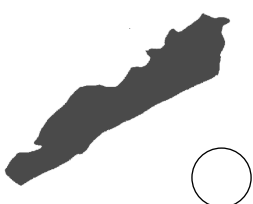
L'actual divisió de Catalunya en comarques té el seu origen en un decret de la Generalitat de Catalunya de l'any 1936. Actualment Catalunya està dividida en 42 comarques.


- 1** Quina d'aquestes siluetes correspon a Cerdanya (pinta la rodona de vermell)? Reconeixes les comarques veïnes de Cerdanya (pinta els cercles de taronja)? Endevides quines són les altres? Escribeu a sota el nom de totes sis.

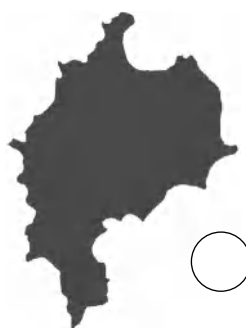












- Subratlla les respostes correctes.

– La Cerdanya està situada...

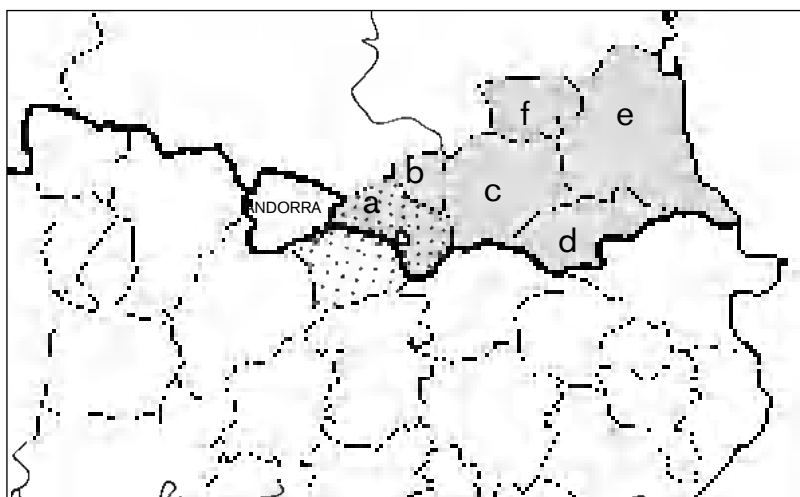
al nord del Berguedà
al sud del Bages
al costat de l'Alt Urgell
prop de les Garrigues
lluny del Priorat

1.A. LA COMARCA. ON SOM?

activitat 1.A.3

Tot el territori de Cerdanya formava part de Catalunya fins al 1659, quan Espanya i França van signar un pacte, anomenat Tractat dels Pirineus, que va dibuixar la frontera entre els dos estats. Aquesta frontera va dividir Catalunya en dos: al nord i dins de França hi van quedar les comarques que avui anomenem Catalunya del Nord, amb Perpinyà com a capital, i al sud, dins d'Espanya, hi va quedar la resta de Catalunya amb Barcelona com a capital. Aquesta frontera també va dividir Cerdanya en dues parts: la part de l'est va restar dins de França i la de l'oest dins d'Espanya.

- 1** Pinta la nostra comarca. De la llista de 10 comarques, subratlla les que l'envolten i tenen límits en comú. Després ubica-les totes al mapa amb el número corresponent.



Comarques de Catalunya del Nord:

- a) Cerdanya
- b) Capcir
- c) Conflent
- d) Vallespir
- e) Rosselló
- f) Fenolledès

- | | | |
|--------------|----------------------|----------------------|
| 1. Garrotxa | 2. Alt Urgell | 3. Val d'Aran |
| 4. Berguedà | 5. Conflent (França) | 6. Cerdanya (França) |
| 7. Ripollès | 8. Rosselló (França) | 9. Pallars Sobirà |
| 10. Solsonès | | |

- Quin és el territori marcat amb puntets?

- Classifica aquestes afirmacions:

- La Cerdanya limita amb dos estats europeus.
- La Cerdanya és l'única comarca catalana que té fronteres amb dos estats.
- A més de Cerdanya, només hi ha dues comarques més que tenen límits amb França.

	veritat	fals
	<input type="checkbox"/>	<input type="checkbox"/>
	<input type="checkbox"/>	<input type="checkbox"/>
	<input type="checkbox"/>	<input type="checkbox"/>

1.B. LA COMARCA. QUANTS POBLES?



SOM DISSET MUNICIPIS

La Cerdanya sota administració espanyola està formada per disset municipis amb ajuntament. A cada municipi hi ha diversos pobles i viles. Tres municipis de Cerdanya tenen una Entitat Municipal Descentralitzada (EMD). Les EMD són: Arànsér, Vil·lec i Estana i Pi.

Els municipis es poden classificar de moltes maneres. Per exemple:

a) Segons el nombre d'habitants

La majoria dels municipis de Cerdanya tenen pocs habitants. Només n'hi ha quatre que superen els mil. El més habitat és el municipi de Puigcerdà, que passa dels nou mil habitants i és la capital de la comarca.

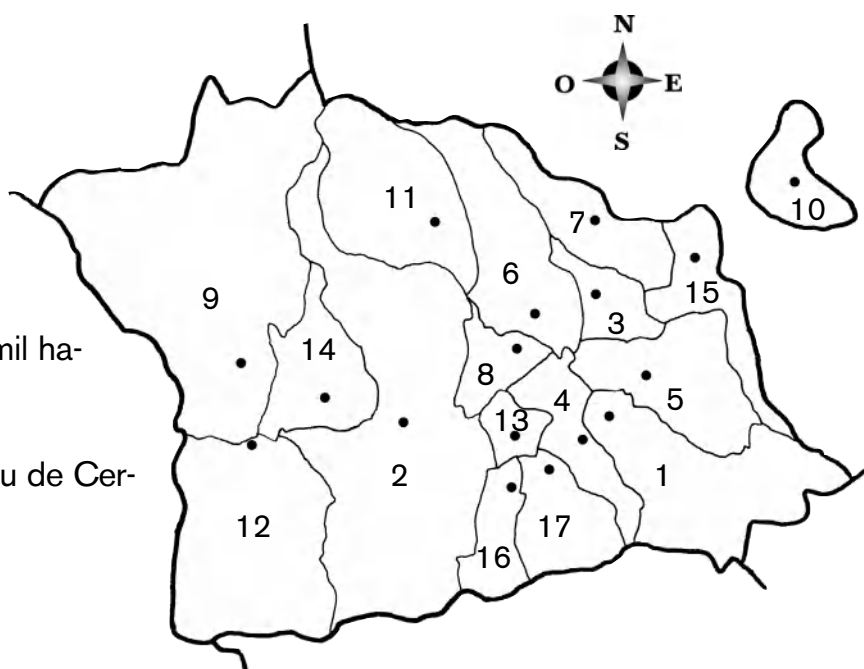
Els menys poblats són Meranges, Riu de Cerdanya i Urús.

b) Segons l'extensió

La majoria dels municipis són petits, a excepció de Lles de Cerdanya i Bellver de Cerdanya, que ocupen molta superfície. Els que tenen menys extensió són Prats i Sansor, Bolvir, Isòvol, Riu de Cerdanya i Llívia.



Ajuntament de Riu de Cerdanya. Aquest municipi és l'últim que s'ha creat a la comarca. L'any 1997 es va segregar de Bellver de Cerdanya.



1 Alp	7 Guils de Cerdanya	13 Prats i Sansor
2 Bellver de Cerdanya	8 Isòvol	14 Prullans
3 Bolvir	9 Lles de Cerdanya	15 Puigcerdà
4 Das	10 Llívia	16 Riu de Cerdanya
5 Fontanals de Cerdanya	11 Meranges	17 Urús
6 Ger	12 Montellà i Martinet	

1.B. LA COMARCA. QUANTS POBLES?



NOM MUNICIPI	ALTITUD	SUPERFÍCIE	POBLACIÓ
Alp	1.158	44,29	1.593
Bellver de Cerdanya	1.061	98,15	2.005
Bolvir	1.145	10,34	375
Das	1.219	14,58	234
Fontanals de Cerdanya	1.180	28,65	437
Ger	1.135	33,38	449
Guils de Cerdanya	1.385	22,02	549
Isòvol	1.088	10,81	281
Lles de Cerdanya	1.471	102,79	270
Llívia	1.224	12,93	1.431
Meranges	1.539	37,34	100
Montellà i Martinet	967	54,95	578
Prats i Sansor	1.124	6,57	222
Prullans	1.096	21,21	226
Puigcerdà	1.202	18,92	9.486
Riu de Cerdanya	1.173	12,34	93
Urús	1.263	17,42	196
TOTAL CERDANYA		546,69 km²	18.525

c) Segons l'altitud

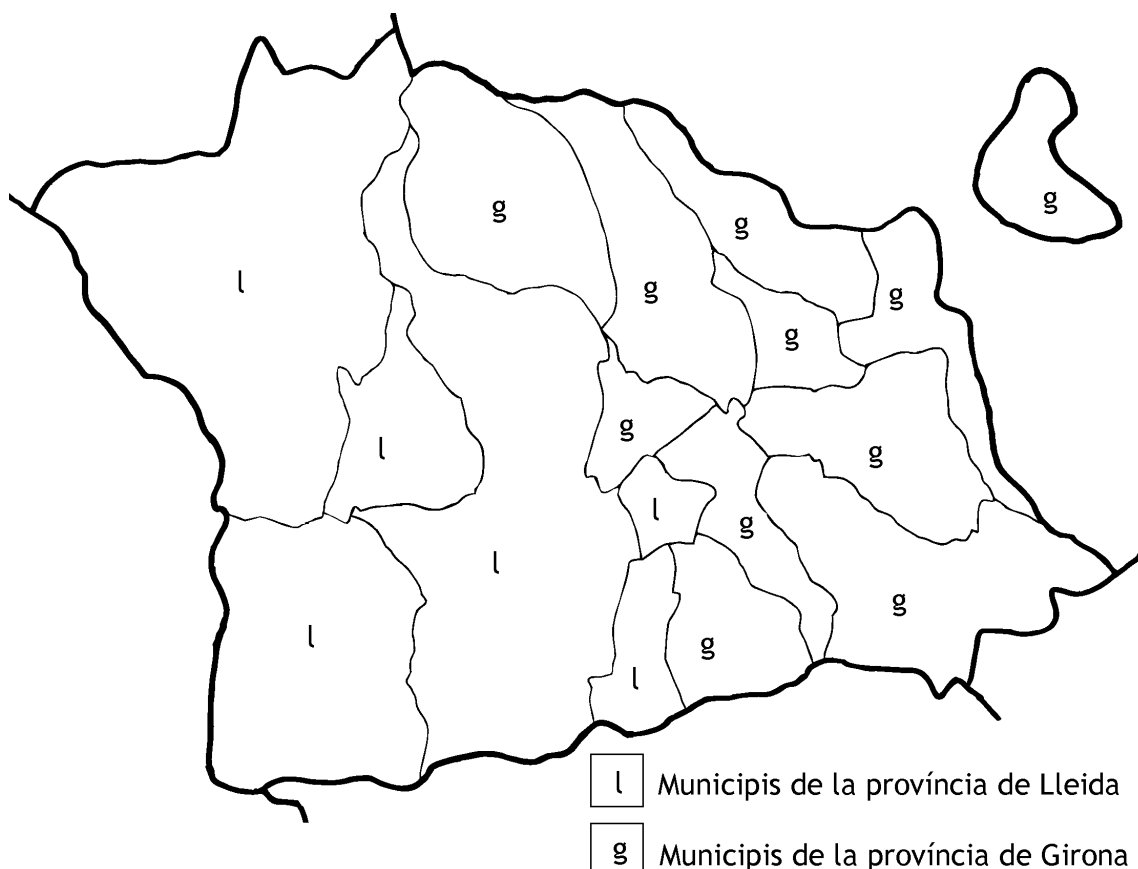
Quasi tots els municipis de la nostra comarca estan a més de mil metres d'altitud. Els que estan a més altura són Meranges, Lles de Cerdanya i Guils de Cerdanya.

d) Segons la província

La província és també una divisió territorial. A Catalunya n'hi ha quatre: Barcelona, Girona, Lleida i Tarragona.

A la Cerdanya els municipis pertanyen a províncies diferents: sis a la de Lleida i onze a la de Girona.

Quadre d'altitud del cap de municipi, superfície i població total del municipi. Font: Institut d'Estadística de Catalunya (2021)

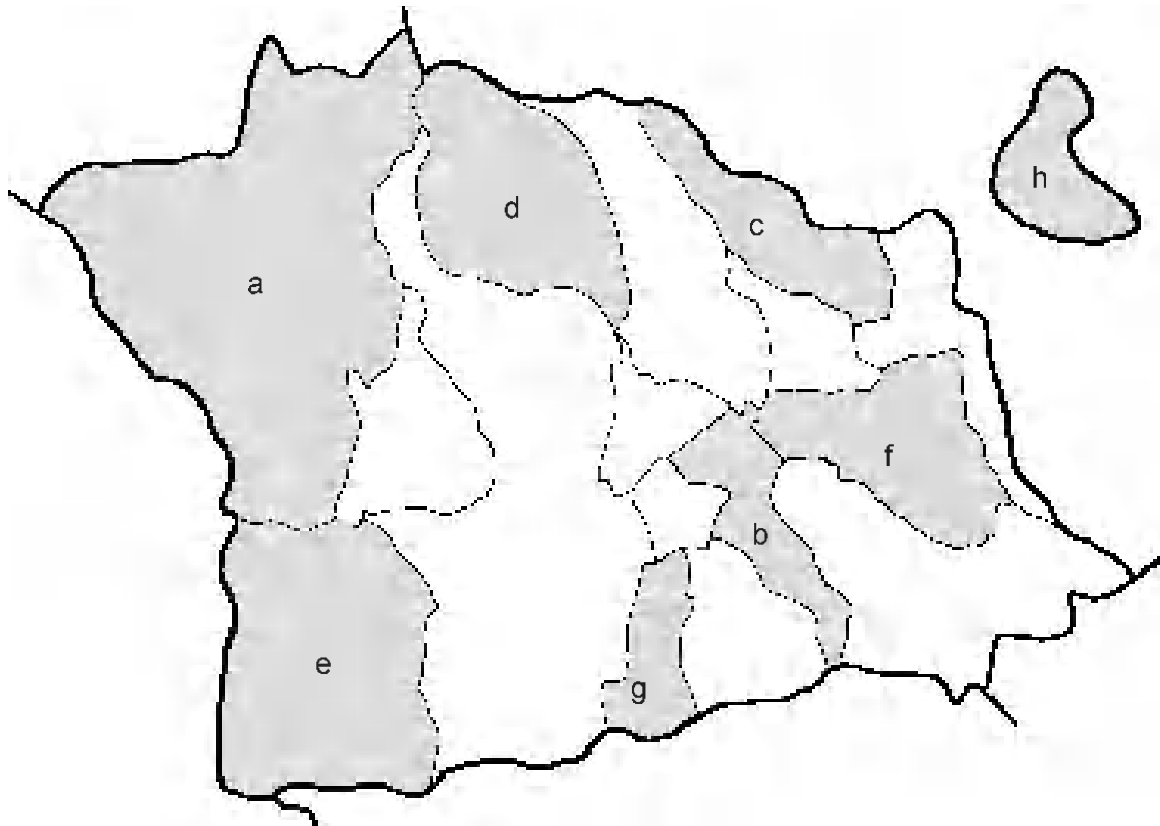


1.B. LA COMARCA. QUANTS POBLES?

activitat 1.B.1

La Cerdanya actualment està formada per disset municipis. La capital de Cerdanya és Puigcerdà. El municipi de Puigcerdà és el que té més habitants.

- 1** Amb l'ajut del mapa de municipis de la pàgina 7, identifica els que estan destacats en el mapa següent i pinta'ls de colors.



a _____	e _____
b _____	f _____
c _____	g _____
d _____	h _____

- Pinta de color vermell el municipi on està situada la capital de la comarca.
- A quin municipi està la teva escola? Pinta'l. Si ja està pintat vol dir que la teva escola és a _____

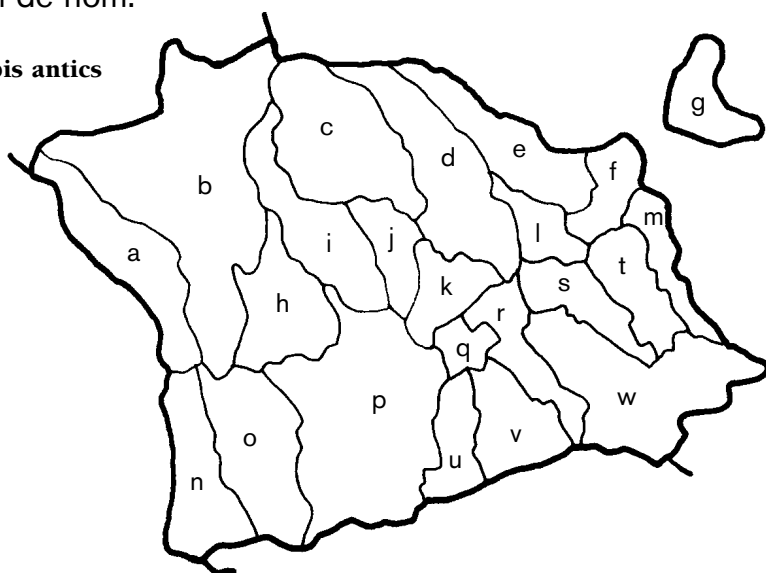
1.B. LA COMARCA. QUANTS POBLES?

activitat 1.B.2

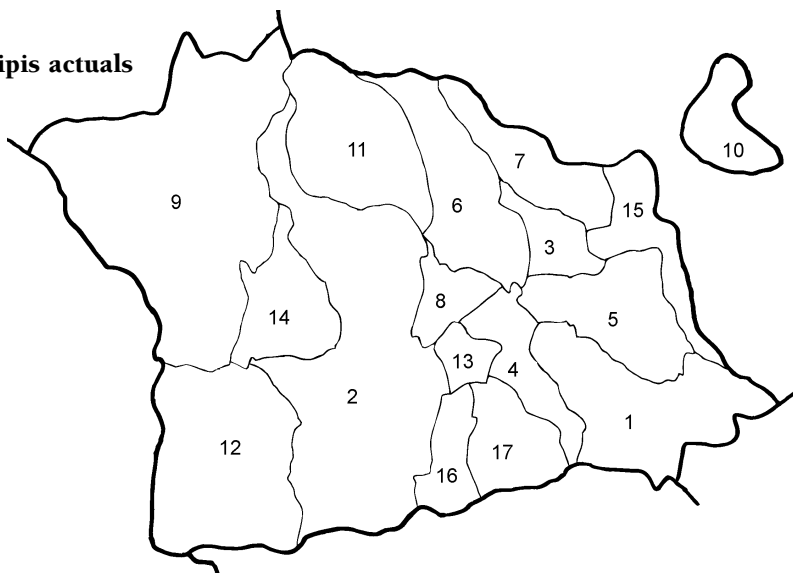
Els límits dels municipis han canviat al llarg de la història. A Cerdanya ara hi ha disset municipis, però abans n'hi va arribar a haver vint-i-tres.

- 1** Compara el mapa dels municipis antics amb el mapa dels municipis actuals. Pinta de color verd els municipis dels dos mapes que no han tingut cap canvi ni de límits ni de nom.

Municipis antics



Municipis actuals



- a) Músser i Arànsers
- b) Lles
- c) Meranges
- d) Ger
- e) Guils
- f) Puigcerdà
- g) Llivia
- h) Prullans
- i) Tallendre i Ordèn
- j) Cortàs i Éller
- k) Isòvol
- l) Bolvir
- m) Age i Vilallobent
- n) Villec i Estana
- o) Montellà de Cadí
- p) Bellver de Cerdanya
- q) Prats i Samsor
- r) Das
- s) Urtx
- t) Queixans
- u) Riu de Pendís
- v) Grus
- w) Alp

- 1 Alp
- 2 Bellver de Cerdanya
- 3 Bolvir
- 4 Das
- 5 Fontanals de Cerdanya
- 6 Ger
- 7 Guils de Cerdanya
- 8 Isòvol
- 9 Lles de Cerdanya
- 10 Llivia
- 11 Meranges
- 12 Montellà i Martinet
- 13 Prats i Sansor
- 14 Prullans
- 15 Puigcerdà
- 16 Riu de Cerdanya
- 17 Urús

- En el mapa actual, pinta...
 - de color vermell els municipis que han tingut canvis de límits i de nom.
 - de color blau els municipis que només han tingut canvi de límits.
 - de color groc els municipis que només han tingut canvi de nom.

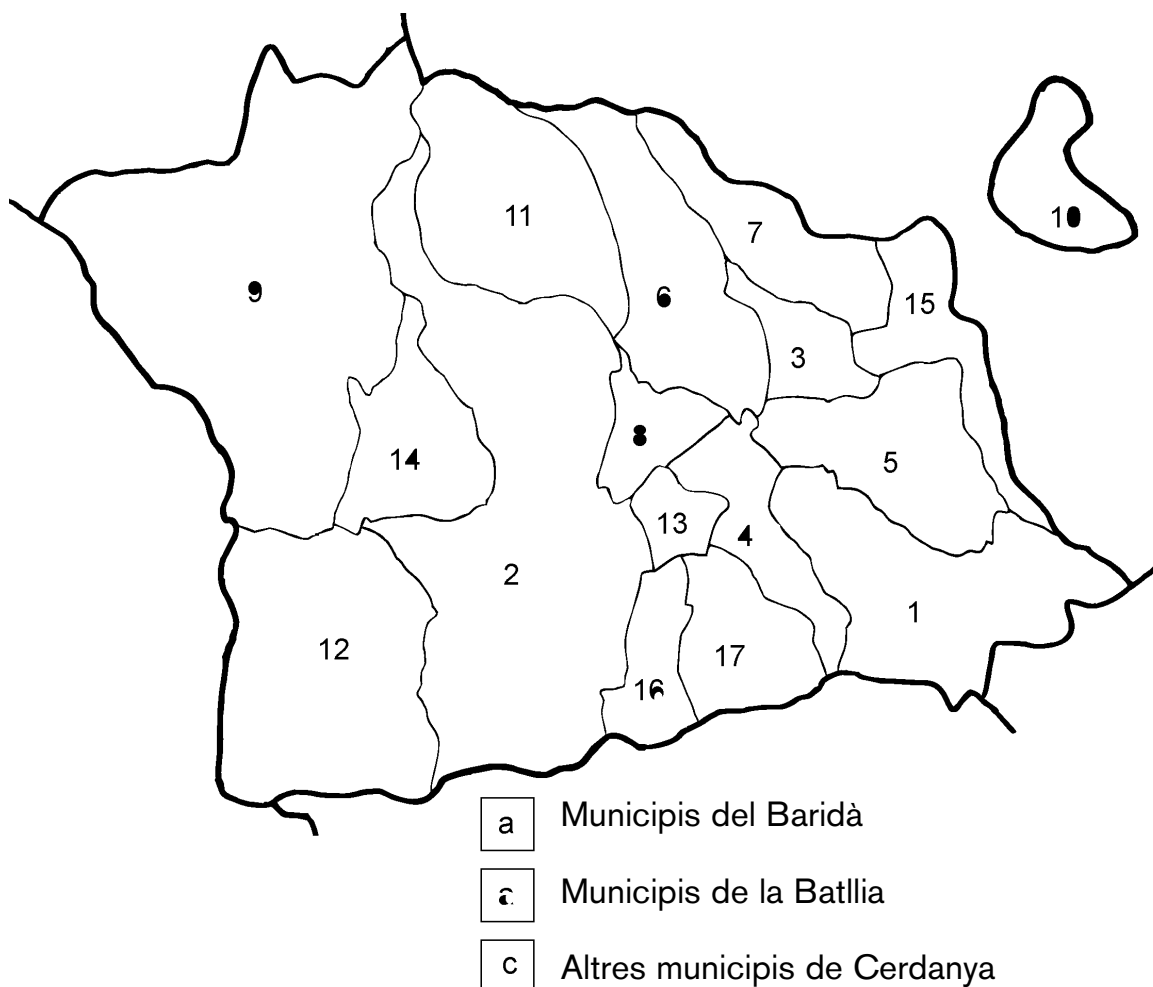
- En el mapa de municipis antics ratlla les actuals entitats municipals descentralitzades d'Arànsers i de Villec i Estana.

1.B. LA COMARCA. QUANTS POBLES?

activitat 1.B.3

Algunes comarques de Catalunya tenen subcomarques. Les subcomarques són un conjunt de municipis amb característiques semblants o que històricament han estat agrupats. A Cerdanya hi ha dues subcomarques: la Batllia i el Baridà. El seu origen prové d'una divisió d'època medieval.

- 1** En aquest mapa de la Cerdanya s'hi han diferenciat les dues subcomarques.



- El teu municipi pertany a una subcomarca? A quina?
- Escriu un municipi del Baridà, un de la Batllia i un de la resta de Cerdanya que no sigui el teu.

1.B. LA COMARCA. QUANTS POBLES?

activitat 1.B.5

Alguns dels nuclis agregats que conformen un municipi havien estat antigament independents, com Montellà de Cadí, Talltendre i Ordèn o Sant Martí dels Castells, que durant molt temps va ser el municipi més petit d'Europa i un enclavament gironí dins de la província de Lleida.

- 1 Consulta a Internet quants nuclis habitats inclou el teu municipi.

Nucli més gran

Nom	Nombre d'habitants
-----	--------------------

Altres nuclis

Nom	Nombre d'habitants
-----	--------------------

S'ha d'entrar al portal www.municat.gencat.cat. A la columna de la dreta, clica "Cercador d'ens locals". Ara emplena la casella "Tipus d'ens" amb la paraula *Municipis* i la casella "Comarca" amb la paraula *Cerdanya*.

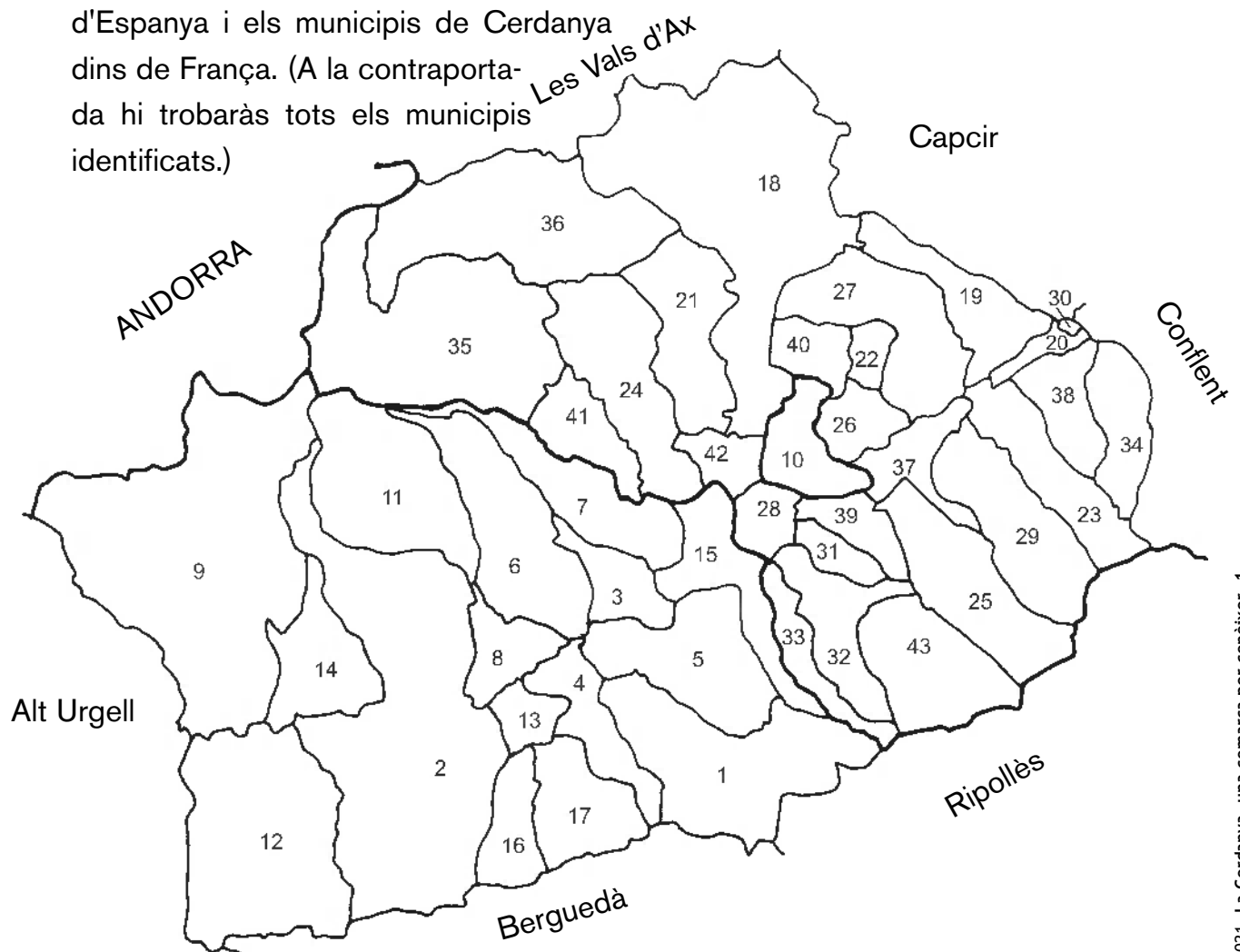
Quan aparegui a sota el resultat de la cerca, cal clicar sobre el nom del teu Ajuntament. S'obrirà un portal nou i llavors s'haurà de clicar sobre "Entitats que formen l'ens" i apareixerà el nom de tots els nuclis del municipi amb el nombre d'habitants que tenen.

1.B. LA COMARCA. QUANTS POBLES?

activitat 1.B.6

El Tractat dels Pirineus (1659), que es va signar entre Espanya i França, va obligar que 33 pobles de Cerdanya passessin a ser francesos. Llivia també era a la llista, però com que tenia categoria de "vila" va poder escollir. Així, va quedar com un municipi de l'Estat espanyol envoltat de municipis francesos.

- 1** Pinta de diferent color els municipis de Cerdanya dins d'Espanya i els municipis de Cerdanya dins de França. (A la contraportada hi trobaràs tots els municipis identificats.)



- Quins municipis de Cerdanya sota administració francesa coneixes? Què hi vas a fer?
- Amb què limita el teu municipi? (Es pot senyalar més d'una resposta.):
 - un altre municipi de Cerdanya
 - un municipi d'una altra comarca
 - un estat europeu

1.C. LA COMARCA. ELS MITJANS DE TRANSPORT



DOS TÚNELS MOLT IMPORTANTS

Camins i carreteres

Des de fa molt temps, Cerdanya s'ha fet servir com a lloc de pas per comunicar el sud de França amb Catalunya.

En temps dels romans ja hi havia una via que travessava les muntanyes pel coll de la Perxa i entrava a Cerdanya. Passava per Llívia i seguia la vall del riu Segre cap a la Seu d'Urgell i, des d'aquí, cap a les planes de Lleida.

En època medieval es va continuar utilitzant i actualment una gran part d'aquest camí és d'ús rural i de lleure.

Des de fa uns cent anys s'hi han afegit altres carreteres per completar la xarxa de comunicacions de la comarca. El 1914 arribava a Puigcerdà la carretera de Barcelona que passava per Vic i Ripoll i per la collada de Toses. L'any següent, el 1915, una part del camí romà i medieval es convertia en carretera per anar a la Seu d'Urgell.

L'any 1984 es va inaugurar el túnel del Cadí, que també connecta Barcelona amb Cerdanya, però ara passant per Manresa i Berga.

Les comunicacions importants per carretera es completen amb la carretera que segueix la vall del Querol i travessa la muntanya pel



Amb una llargada de 5.026 metres, el túnel del Cadí comunica el Berguedà amb Cerdanya. Les obres van començar l'any 1982 i van durar dos anys.



La collada de Toses és el port de muntanya que comunica el Ripollès amb Cerdanya.

1.C. LA COMARCA. ELS MITJANS DE TRANSPORT



coll de Pimorent o pel túnel del mateix nom per anar cap a Tolosa de Llenguadoc.

El ferrocarril

La comunicació amb ferrocarril ha estat més difícil perquè es necessitaven túnels ben llargs per travessar les muntanyes que encerclen Cerdanya.

El transpirinenc va arribar a la Molina el 1922 i pocs mesos després a Puigcerdà. De Barcelona a Puigcerdà passa per les capitals de comarca següents: Granollers, Vic i Ripoll. El seu recorregut final és el més alt de l'Estat espanyol i en el trajecte hi trobem el túnel del Cargol i el túnel de Toses. La darrera estació és la de la Tor de Querol, on es pot connectar amb els trens francesos.

Un altre tren històric és el Tren Groc. Rep el seu nom pel color dels vagons. Va ser inaugurat l'any 1910 i uneix la Tor de Querol amb Vilafranca de Conflent. El tren passa per dos importants ponts: el Sejourné i el Gisclard, fets per picapedrers cerdans del poble de Dorres.



Després de travessar el túnel de Toses, de 3.904 m, el tren entra a Cerdanya.



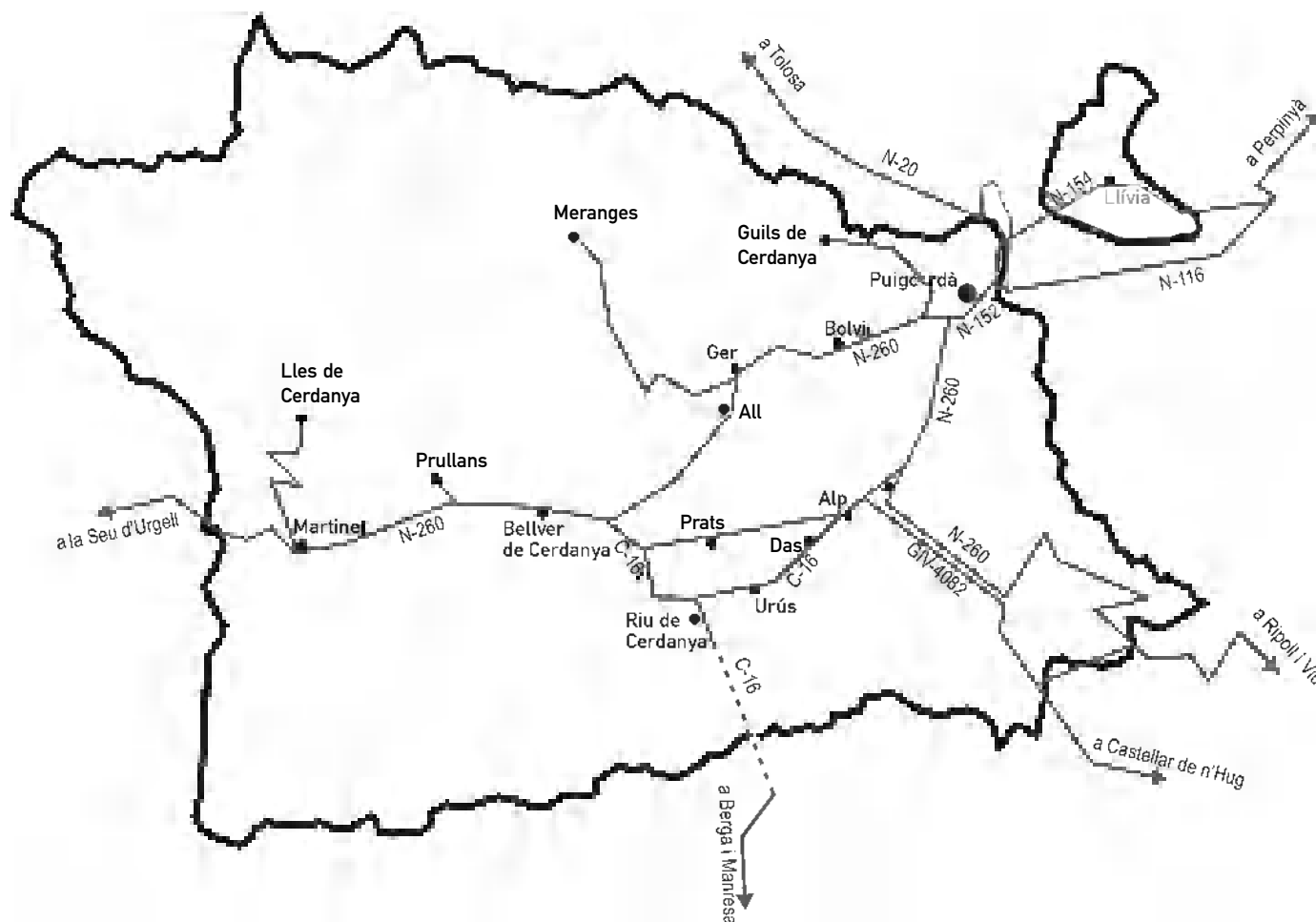
L'estació de ferrocarril de la Molina (Alp) és una de les tres estacions de RENFE a Cerdanya. És l'estació situada a més altitud de la península Ibèrica (1.420 m).

1.C. ELS MITJANS DE TRANSPORT

activitat 1.C.1

A la xarxa de carreteres s'hi diferencien tres tipus de vies de comunicació: a) la xarxa bàsica, que inclou les vies més llargues que connecten amb altres comarques; b) la xarxa comarcal, que uneix les poblacions importants amb la xarxa bàsica, i c) la xarxa local, que serveix per accedir als nuclis més allunyats.

- 1** Completa el quadre anotant les vies que farem servir per anar als llocs.



Itinerari	Carretera que farem servir
Riu de Cerdanya - Berga	
Puigcerdà - Ripoll	
Urús - Alp	
Martinet - Ger	
Puigcerdà - Llívia	
Bolvir - Bellver de Cerdanya	
Puigcerdà - Seu d'Urgell	

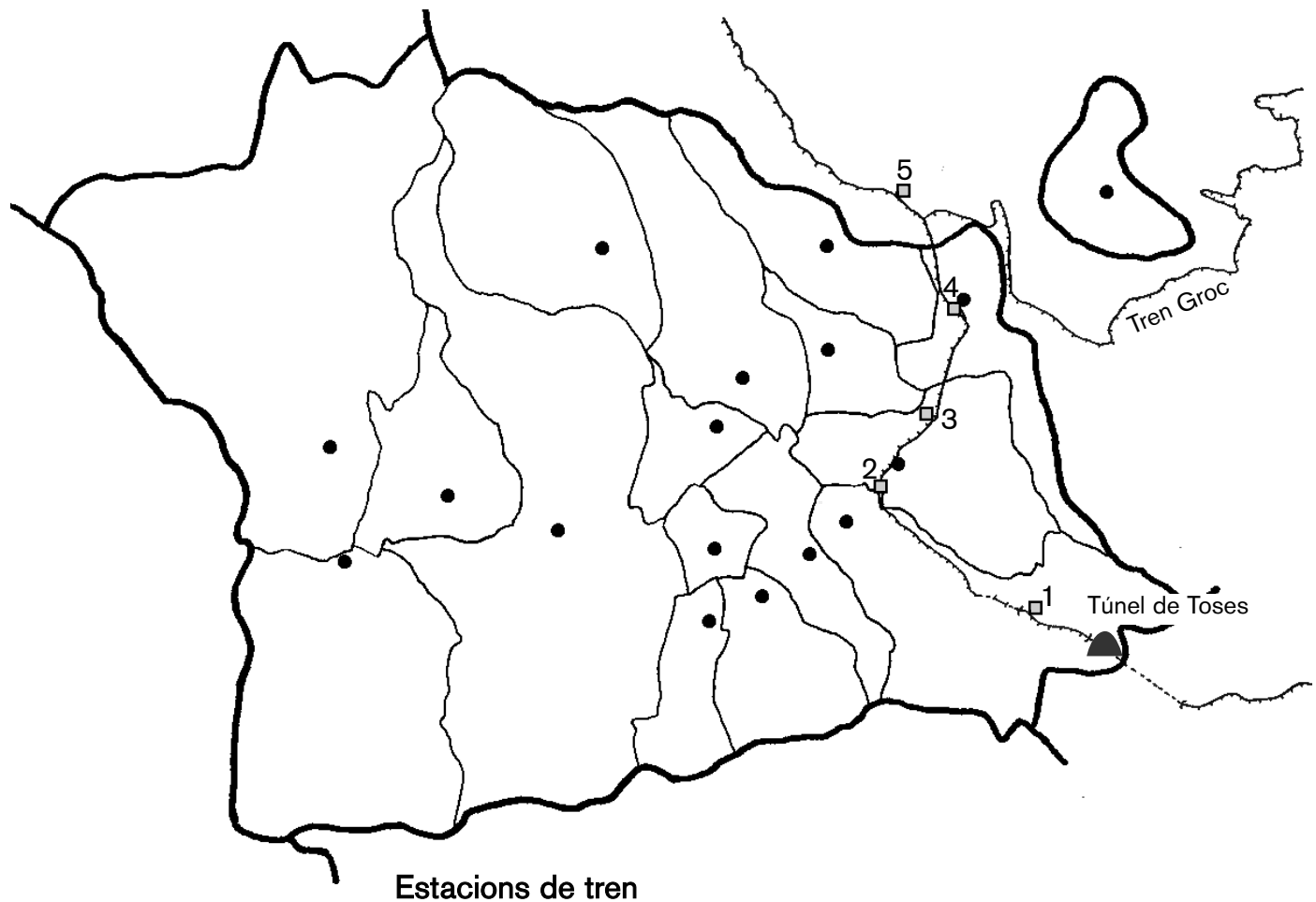
1.C. ELS MITJANS DE TRANSPORT

activitat 1.C.2

Antigament les carreteres eren força complicades, per aquesta raó el tren era molt utilitzat per venir a Cerdanya.

1 A partir de la informació que et proporciona el mapa, senyala per quins dels municipis següents hi passa el tren. Quins tenen estació al nucli principal del municipi (subratlla'ls)?

- | | | |
|-------------------------------|--|--|
| <input type="checkbox"/> Urús | <input type="checkbox"/> Guils de Cerdanya | <input type="checkbox"/> Alp |
| <input type="checkbox"/> Ger | <input type="checkbox"/> Puigcerdà | <input type="checkbox"/> Fontanals de Cerdanya |



Estacions de tren

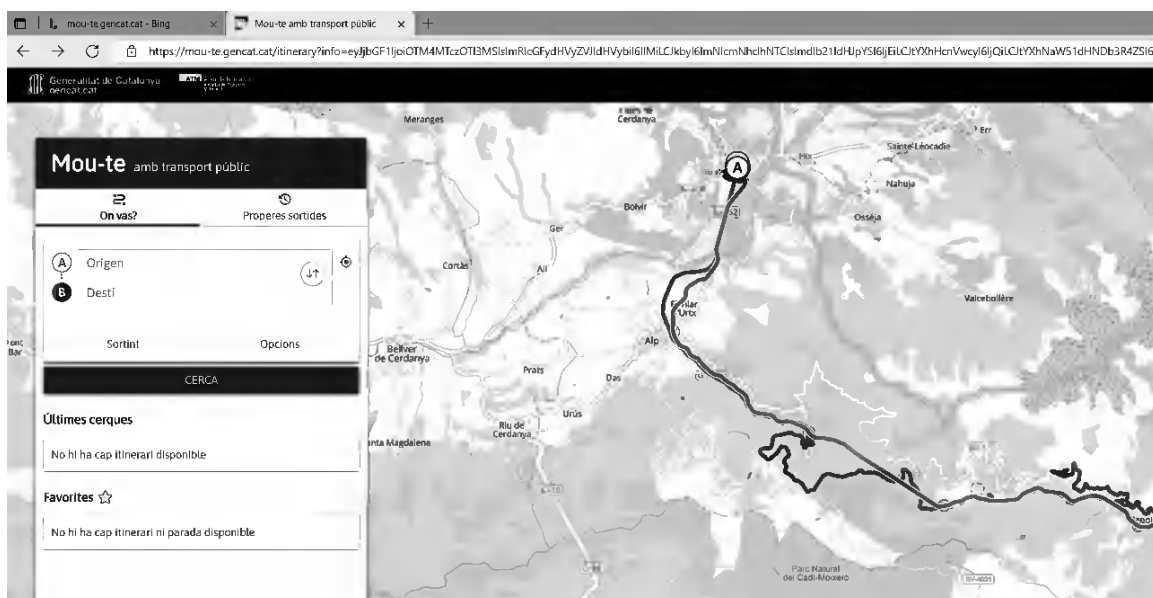
- | | | |
|-------------|---------------------------|----------------------|
| 1 La Molina | 2 Urtx-Alp | 3 Queixans (tancada) |
| 4 Puigcerdà | 5 La Tor de Querol-Enveig | |

1.C. ELS MITJANS DE TRANSPORT

activitat 1.C.3

La Generalitat de Catalunya té un cercador de rutes de transport públic per Internet. S'anomena "mou-te.gencat.cat". Des d'aquest portal s'ofereix informació d'horaris i de línies de transport.

- 1 Entra al portal i, en el requadre que hi ha a l'esquerra, ompleu les etiquetes "Origen" i "Destí" i fes la cerca amb els noms de les poblacions que apareixen al quadre de més avall.



Origen	Destí	Mitjà de transport públic		Temps	
Puigcerdà	el vostre poble	<input type="checkbox"/> tren	<input type="checkbox"/> bus interurbà		
Puigcerdà	Seu d'Urgell	<input type="checkbox"/> tren	<input type="checkbox"/> bus interurbà		
Puigcerdà	Ripoll	<input type="checkbox"/> tren	<input type="checkbox"/> bus interurbà		
Puigcerdà	Berga	<input type="checkbox"/> tren	<input type="checkbox"/> bus interurbà		

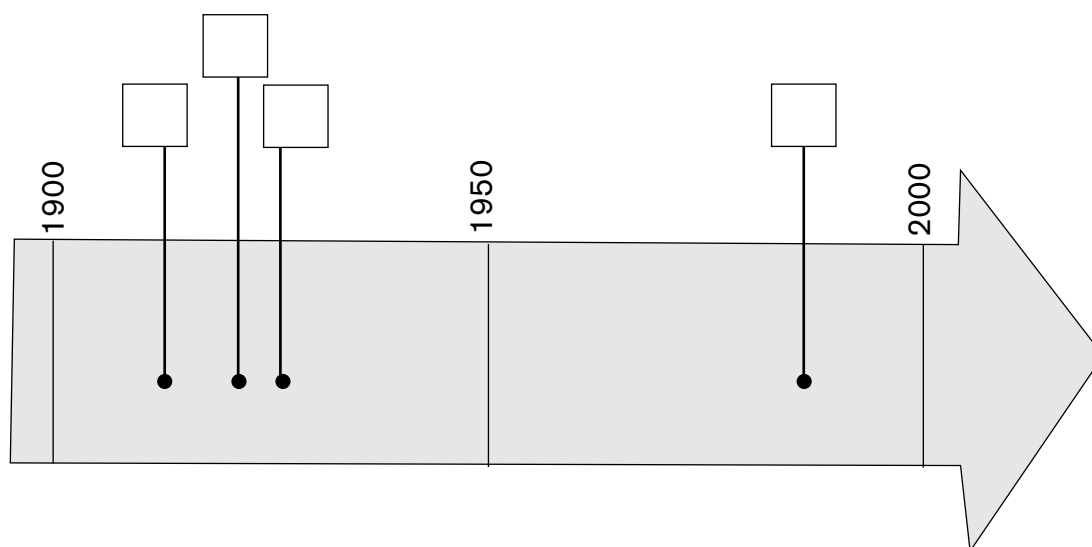
1.C. ELS MITJANS DE TRANSPORT

activitat 1.C.4

Després de l'arribada del tren a Cerdanya les comunicacions van començar a modernitzar-se i es passà de viatjar amb diligències tirades per cavalls a fer-ho amb cotxes i autocars perquè les carreteres van millorar molt.

1 A quin lloc de la línia del temps situaries els esdeveniments següents (escriu la lletra en el quadre corresponent)?:

- A** S'inaugura el tunel del Cadí, l'any 1984.
- B** L'any 1915 arriba a Puigcerdà la carretera C-1313 des de Lleida i la Seu d'Urgell.
- C** Arriba a la Tor de Querol el Tren Groc, des de Vilafranca del Conflent, l'any 1927.
- D** Arriba a Puigcerdà el tren de Barcelona, Vic i Ripoll l'any 1922.



- Quin d'aquests quatre esdeveniments consideres més important per a la millora de les comunicacions de Cerdanya? Per què?

1.D. LA COMARCA. ELS MITJANS DE COMUNICACIÓ



CAP DIARI PERÒ FORÇA REVISTES

Els mitjans de comunicació col·lectius posen en contacte un gran nombre de persones a la vegada i s'encarreguen de fer-nos arribar les notícies des del lloc on es produeixen fins als nostres sentits (la vista i l'oïda).

Són molts els mitjans de comunicació col·lectius pels quals podem rebre informació. Els principals són: **diaris, revistes, ràdio, televisió i Internet.**

A les persones ens agrada saber el que passa al país, a Europa i al món, però també ens interessa conèixer què succeeix al nostre municipi i a la comarca.

Als pobles de la nostra comarca ens hi arriben les notícies que emeten aquests mitjans de comunicació, però n'hi ha molt pocs que siguin exclusivament de Cerdanya. La informació sobre els nostres pobles i viles s'ha de buscar en mitjans de comunicació supra-comarcals (que parlen de més d'una comarca) o nacionals. Tot depèn de la importància de la notícia.

A més dels diaris hi ha algunes revistes que també recullen notícies sobre la comarca; són gratuïtes i surten cada mes. Són revistes on es fa difusió de les activitats i dels esdeveniments que succeiran a la comarca al llarg de



El diari *Regió7*, que es publica des de Manresa, sol incloure una pàgina dedicada a recollir notícies de Cerdanya i de la comarca veïna de l'Alt Urgell. (Font: *Regió7*)



El diari *El Punt Avui* té una versió digital, que es pot consultar per Internet, amb notícies de Cerdanya. (Font: *El Punt Avui*)

1.D. LA COMARCA. ELS MITJANS DE COMUNICACIÓ



tot un mes. També es fa publicitat de negocis. A Cerdanya també s'hi editen altres revistes amb un altre objectiu. Són revistes temàtiques fetes per entitats o col·lectius de Cerdanya que volen difondre la investigació científica i la cultura. Surten amb una periodicitat més àmplia i poden ser en paper o per Internet.



D'altra banda, molts municipis editen els seus respectius butlletins d'informació municipal on es pot trobar tot tipus de temes d'interès sobre el municipi. Aquests estan editats pels mateixos ajuntaments.



Cada vegada és més freqüent l'aparició de revistes mensuals gratuïtes, amb paper o amb format digital, que ofereixen informació turística i comercial.

D'emissores de ràdio se'n poden escoltar moltes, tant en català com en castellà i francès. Però a la comarca només Ràdio Pirineus (SER) té oberta una redacció radiofònica, concretament a Puigcerdà. Des d'allà s'hi emeten alguns programes al dia amb notícies de Cerdanya.

Pel que fa a la televisió, a la nostra comarca es poden sintonitzar gran quantitat d'emissores. Allà on arriba el senyal també se sintonitzen emissores franceses i d'Andorra.



Sala des de la qual emet Ràdio Pirineus a Puigcerdà.

1.D. ELS MITJANS DE COMUNICACIÓ

activitat 1.D.1

La premsa inclou els mitjans de comunicació col·lectius que es presenten en paper. Actualment la premsa també s'ofereix en format digital i es pot consultar per Internet.

1

Al web www.bibgirona.cat/biblioteca/puigcerda, que és el portal de la biblioteca Comtat de Cerdanya, hi ha un servei de premsa comarcal. Clica l'etiqueta "PREMSA" que hi ha a la línia superior del portal i obre "Notícies del dia...". Consulta-les i emplena el quadre següent amb les quatre que consideris més importants.



Dia	Mitjà de comunicació	Notícia

1.D. ELS MITJANS DE COMUNICACIÓ

activitat 1.D.1

2 Quina premsa arriba a la teva localitat? Visita un quiosc o llibreria i entrevista la persona responsable. Busca respostes a aquestes preguntes:

- Quants establiments coneixes que venguin premsa escrita i revistes? On són?
- Com es diu la botiga que visites i la persona que t'atén?
- Quins diaris s'hi venen i quin és el més venut?
- Quines revistes gratuïtes coneixes? Quins temes tracten?
- Quin diari porta més notícies de Cerdanya?
- Quines revistes coneixes per Internet?



En alguns municipis, com a Puigcerdà, els establiments que venen diaris també solen ser llibreries.

3 Pregunta als de casa com ho fan per conèixer les notícies que passen al poble on viviu? Anoteu-ho.